


Тест-тренажер по математике



на тему «Решение задач»


Подготовила: воспитатель Манькова О.Ю

Воронеж 2018г




На одной тарелке 3 яблока, на другой 4, положили ещё 2 яблока. Сколько яблок на тарелке?

$$\begin{array}{r} \bullet 9 \\ \bullet 6 \\ \bullet 12 \\ \hline 8 \end{array}$$




Когда с полки сняли 8 книг, на ней осталось 10 книг. Сколько книг стояло на полке всего?

- 10
- 15
- 13
- 18




В гараже 20 машин были построены в 4 ряда.
Сколько машин стояло в каждом ряду?

- 3
- 7
- 2
- 5




В одной коробке 6 карандашей. Сколько карандашей в четырех таких коробках?

- 24
- 25
- 23
- 29




Девочка разложила в 3 тарелки по 4 яблока. Сколько всего получилось яблок?

- 11
- 15
- 19
- 12




В корзине лежало 6 огурцов и 4 помидора.
Сколько всего овощей лежало в корзине?

- 9
- 13
- 10
- 8




Бабушка разложила 7 тарелок по 4 булочки.
Сколько всего булочек разложила бабушка?

- 23
- 28
- 30
- 16




На ёлке 12 хлопушек, 6 шаров. на сколько
хлопушек больше чем шаров?

- 6
- 2
- 3
- 5




У золушке было 7 конфет, что на 2 конфеты больше чем у дюймовочке. Сколько конфет было у дюймовочке?

- 7
- 9
- 12
- 13



12 карандашей раздали 3м ученикам поровну.
Сколько карандашей было у каждого?

- 2
- 4
- 6
- 3



Ну вот и всё!

Конец...

